

Fecha: _____

Nombre: _____

1. Leer varias veces los siguientes símbolos.



κ



C



V



A

2. Leer y escribir.




κ

C

V

A

3. Colorear los ositos de acuerdo al símbolo que llevan.




Nombre: _____

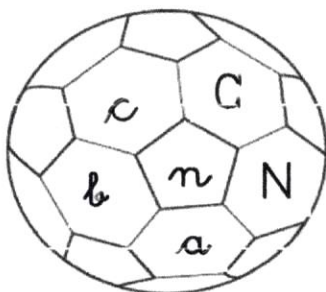
Pre-escolar 2 _____

Pre-matemáticas 2


Escalera ascendente: Es ordenar las regletas presentadas, desde la más pequeña hasta la más grande, formando la escalera.



Con las regletas que están en el bus, construir una escalera en orden ascendente y anotarla.



Con las regletas que están en el balón, construir y anotar la escalera ascendente.



Construir, y anotar una escalera ascendente con las regletas que están en el árbol.

Imagen
Tornado de:
pinterest . de

Fecha: _____

Nombre: _____

1. Tomar todas las regletas que tiene el pajarito, para construir y anotar una escalera en orden ascendente donde está la línea.

